

### Lampiran 7

Hasil tes awal dan tes akhir anak

Satuan Pendidikan : SD Inpres Maccini Baru  
 Mata Pelajaran : Matematika  
 Materi Penelitian : Mengenal Nilai Mata Uang  
 Kelas : III  
 Nama Murid :  
 Hari/tanggal :

### Soal

Kerjakanlah soal-soal di bawah ini dengan benar!

1. Ibu memberi uang jajan kepada Tegar satu lembar uang kertas seperti gambar di bawah.



Berapakah uang yang diperoleh Tegar?

2. Tulislah nilai mata uang dari gambar di bawah...



3. Nilai dari mata uang di bawah ini adalah....



4. Nilai dari mata uang di bawah adalah ...




5. Nilai mata uang di bawah adalah ...



6. Hitunglah hasil dari penjumlahan mata uang berikut!



7. Hasil penjumlahan dari dua uang di bawah adalah ...



8. Jumlah dari dua mata uang di bawah adalah ...




9. Jumlah dari mata uang di bawah adalah ...




10. Hasil dari penjumlahan mata uang di bawah adalah ...




11. Tegar berniat membeli nasi di kantin sekolah, bila harga nasi adalah Rp. 5000, maka uang yang harus dibayarkan oleh Tegar adalah ...







12. Sakir meminjam uang sebesar Rp. 2000 pada Tegar, Ia berjanji akan membayarnya besok. Uang yang harus disiapkan Tegar adalah ...







13. Sakir diajak ayah ke pasar. Sesampainya di pasar, Sakir meminta ayahnya untuk membeli rambutan. Harga rambutan adalah Rp. 10.000. Uang yang harus dibayarkan ayah untuk membeli rambutan adalah ...



14. Tegar mempunyai uang Rp. 2000. Jika ia membelanjakan uangnya sebesar Rp. 1000, maka sisa uang Tegar adalah ...

- a.  c. 
- b.  d. 

15. Sakir mempunyai uang sebesar Rp. 6000, Dia berniat membeli dua buah buku tulis. Jika harga satu buah buku adalah Rp. 2000, sisa uang Sakir adalah ...

- a.  c. 
- b.  d. 

16. Hitunglah hasil dari pengurangan mata uang berikut!

$$\begin{array}{ccc}
 \begin{array}{c} \text{2000} \\ \text{Rp. 2000} \end{array} & - & \begin{array}{c} \text{1000} \\ \text{Rp. 1000} \end{array} =
 \end{array}$$

17. Hasil pengurangan dari dua uang di bawah adalah ...

$$\begin{array}{ccc}
 \begin{array}{c} \text{10000} \\ \text{Rp. 10.000} \end{array} & - & \begin{array}{c} \text{5000} \\ \text{Rp. 5000} \end{array} =
 \end{array}$$

18. Hasil pengurangan dari dua mata uang di bawah adalah ...


$$\begin{array}{ccc}
 \begin{array}{c} \text{20000} \\ \text{Rp. 20.000} \end{array} & - & \begin{array}{c} \text{10000} \\ \text{Rp. 10.000} \end{array} =
 \end{array}$$

19. Hasil pengurangan dari mata uang di bawah adalah ...



Rp. 5000


-



Rp. 1000



Rp. 1000



Rp. 1000

=

20. Hasil dari pengurangan mata uang di bawah adalah ...



Rp. 100.000

-










Rp. 50.000




=

Nama :  
 Kelas : III  
 Sekolah : SD Inpres Maccini Baru






**Tes Awal**







No	Item tes	Jawaban anak	Kunci jawaban	Hasil	
				Benar	Salah
1	<p>Kerjakanlah soal-soal di bawah ini dengan benar!</p> <p>Ibu memberi uang jajan kepada Tegar satu lembar uang kertas seperti gambar di bawah.</p>  <p>Berapakah uang yang diperoleh Tegar?</p>	1000	1000	✓	
2	<p>Tulislah nilai mata uang dari gambar di bawah...</p> 	5000	5000	✓	







3	<p>Nilai dari mata uang di bawah ini adalah....</p> 	2000	2000	✓	
4	<p>Nilai dari mata uang di bawah adalah ...</p> 	10.000	10.000	✓	
5	<p>Nilai mata uang di bawah adalah ...</p> 	20.000	20.000	✓	
6	<p>Hitunglah hasil dari penjumlahan mata uang berikut!</p>  <p style="text-align: center;">+</p>  <p style="text-align: center;">=</p>	2000	2000	✓	





7	<p>Hasil penjumlahan dari dua uang di bawah adalah ...</p>  <p>5000 BANK INDONESIA LIMA RIBU RUPIAH</p> <p>+</p> <p>5000 BANK INDONESIA LIMA RIBU RUPIAH</p> <p>=</p>	10.000	10.000	✓	
8	<p>Jumlah dari dua mata uang di bawah adalah</p>  <p>10000 BANK INDONESIA SEPULUH RIBU RUPIAH</p> <p>+</p> <p>10000 BANK INDONESIA SEPULUH RIBU RUPIAH</p> <p>=</p>	20000	20.000	✓	
9	<p>Jumlah dari mata uang di bawah adalah ...</p>  <p>1000 BANK INDONESIA SERIBU RUPIAH</p> <p>+</p> <p>1000 BANK INDONESIA SERIBU RUPIAH</p> <p>1000 BANK INDONESIA SERIBU RUPIAH</p> <p>2000 BANK INDONESIA DUA RIBU RUPIAH</p>	5000	5000	✓	









10	<p>Hasil dari penjumlahan mata uang di bawah adalah ...</p> 	50.000	100.000		✓
11	<p>Tegar berniat membeli nasi di kantin sekolah, bila harga nasi adalah Rp. 5000, maka uang yang harus dibayarkan oleh Tegar adalah ...</p> <p>a. </p> <p>b. </p> <p>c. </p> <p>d. </p>	d. 10.000	c. 5000		✓


12	<p>Sakir meminjam uang sebesar Rp. 2000 pada Tegar, Ia berjanji akan membayarnya besok. Uang yang harus disiapkan Tegar adalah ...</p> <p>a. </p> <p>b. </p> <p>c. </p> <p>d. </p>	c. 5000	b. 2000		✓
13	<p>Sakir diajak ayah ke pasar. Sesampainya di pasar, Sakir meminta ayahnya untuk membeli rambutan. Harga rambutan adalah Rp. 10.000. Uang yang harus dibayarkan ayah untuk membeli rambutan adalah ...</p> <p>a. </p> <p>b. </p>	a. 1000	d. 10.000		✓

	<p>c. </p> <p>d. </p>				
14	<p>Tegar mempunyai uang Rp. 2000. Jika ia membelanjakan uangnya sebesar Rp. 1000, maka sisa uang Tegar adalah ...</p> <p>a. </p> <p>b. </p> <p>c. </p> <p>d. </p>	b. 2000	a. 1000		✓

15	<p>Sakir mempunyai uang sebesar Rp. 6000, Dia berniat membeli dua buah buku tulis. Jika harga satu buah buku adalah Rp. 2000, sisa uang Sakir adalah ...</p> <p>a. </p> <p>b. </p> <p>c. </p> <p>d. </p>	e. 4000	a. 2000		✓
----	---	---------	---------	--	---

16	<p>Hitunglah hasil dari pengurangan mata uang berikut!</p>  <p style="text-align: center;">-</p>  <p style="text-align: center;">=</p>	3000	1000		✓
17	<p>Hasil pengurangan dari dua uang di bawah adalah ...</p>  <p style="text-align: center;">-</p>  <p style="text-align: center;">=</p>	10.000	5000		✓

18	<p>Hasil pengurangan dari dua mata uang di bawah adalah ...</p>  <p style="text-align: center;">-</p> <p style="text-align: center;">=</p>	20.000	10.000		✓
19	<p>Hasil pengurangan dari mata uang di bawah adalah ...</p>  <p style="text-align: center;">-</p> <p style="text-align: center;">=</p>	8000	2000		✓

20	<p>Hasil dari pengurangan mata uang di bawah adalah ...</p> 	15000	50.000		✓
Jumlah				9	11

Satuan Pendidikan : SD Inpres Maccini Baru  
 Mata Pelajaran : Matematika  
 Materi Penelitian : Mengenal Nilai Mata Uang  
 Kelas : III  
 Nama Murid :  
 Hari/tanggal :

### Soal

Kerjakanlah soal-soal di bawah ini dengan benar!

1. Ibu memberi uang jajan kepada Tegar satu lembar uang kertas seperti gambar di bawah.



Berapakah uang yang diperoleh Tegar?

2. Tulislah nilai mata uang dari gambar di bawah...



3. Nilai dari mata uang di bawah ini adalah....



4. Nilai dari mata uang di bawah adalah ...





5. Nilai mata uang di bawah adalah ...



6. Hitunglah hasil dari penjumlahan mata uang berikut!



7. Hasil penjumlahan dari dua uang di bawah adalah ...



8. Jumlah dari dua mata uang di bawah adalah ...



9. Jumlah dari mata uang di bawah adalah ...



Rp. 2000

=

10. Hasil dari penjumlahan mata uang di bawah adalah ...



11. Tegar berniat membeli nasi di kantin sekolah, bila harga nasi adalah Rp. 5000, maka uang yang harus dibayarkan oleh Tegar adalah ...




12. Sakir meminjam uang sebesar Rp. 2000 pada Tegar, Ia berjanji akan membayarnya besok. Uang yang harus disiapkan Tegar adalah ...




13. Sakir diajak ayah ke pasar. Sesampainya di pasar, Sakir meminta ayahnya untuk membeli rambutan. Harga rambutan adalah Rp. 10.000. Uang yang harus dibayarkan ayah untuk membeli rambutan adalah ...



14. Tegar mempunyai uang Rp. 2000. Jika ia membelanjakan uangnya sebesar Rp. 1000, maka sisa uang Tegar adalah ...



15. Sakir mempunyai uang sebesar Rp. 6000, Dia berniat membeli dua buah buku tulis. Jika harga satu buah buku adalah Rp. 2000, sisa uang Sakir adalah ...



16. Hitunglah hasil dari pengurangan mata uang berikut!

$$\begin{array}{ccc}
 \begin{array}{c} \text{2000} \\ \text{Rp. 2000} \end{array} & - & \begin{array}{c} \text{1000} \\ \text{Rp. 1000} \end{array} =
 \end{array}$$

17. Hasil pengurangan dari dua uang di bawah adalah ...

$$\begin{array}{ccc}
 \begin{array}{c} \text{10000} \\ \text{Rp. 10.000} \end{array} & - & \begin{array}{c} \text{5000} \\ \text{Rp. 5000} \end{array} =
 \end{array}$$

18. Hasil pengurangan dari dua mata uang di bawah adalah ...


$$\begin{array}{ccc}
 \begin{array}{c} \text{20000} \\ \text{Rp. 20.000} \end{array} & - & \begin{array}{c} \text{10000} \\ \text{Rp. 10.000} \end{array} =
 \end{array}$$

19. Hasil pengurangan dari mata uang di bawah adalah ...



Rp. 5000


-



Rp. 1000



Rp. 1000



Rp. 1000

=

20. Hasil dari pengurangan mata uang di bawah adalah ...



Rp. 100.000

-












Rp. 50.000





=

## Tes Akhir







No	Item tes	Jawaban anak	Kunci jawaban	Hasil	
				Benar	Salah
1	<p>Kerjakanlah soal-soal di bawah ini dengan benar!</p> <p>Ibu memberi uang jajan kepada Tegar satu lembar uang kertas seperti gambar di bawah.</p>  <p>Berapakah uang yang diperoleh Tegar?</p>	1000	1000	✓	
2	<p>Tulislah nilai mata uang dari gambar di bawah...</p> 	5000	5000	✓	
3	<p>Nilai dari mata uang di bawah ini adalah....</p> 	2000	2000	✓	







4	<p>Nilai dari mata uang di bawah adalah ...</p> 	10.000	10.000	✓	
5	<p>Nilai mata uang di bawah adalah ...</p> 	20.000	20.000	✓	
6	<p>Hitunglah hasil dari penjumlahan mata uang berikut!</p>  <p style="text-align: center;">+</p>  <p style="text-align: center;">=</p>	2000	2000	✓	
7	<p>Hasil penjumlahan dari dua uang di bawah adalah ...</p>  <p style="text-align: center;">+</p> 	10.000	10.000	✓	





8	<p>Jumlah dari dua mata uang di bawah adalah</p>  <p style="text-align: center;">+</p> <p style="text-align: center;">=</p>	20000	20.000	✓	
9	<p>Jumlah dari mata uang di bawah adalah ...</p>  <p style="text-align: center;">+</p>	5000	5000	✓	
10	<p>Hasil dari penjumlahan mata uang di bawah adalah ...</p>  <p style="text-align: center;">+</p> <p style="text-align: center;">=</p>	100.000	100.000	✓	







11	<p>Tegar berniat membeli nasi di kantin sekolah, bila harga nasi adalah Rp. 5000, maka uang yang harus dibayarkan oleh Tegar adalah ...</p> <p>a. </p> <p>b. </p> <p>c. </p> <p>d. </p>	c. 5.000	c. 5000	✓	
----	--	----------	---------	---	--









12	<p>Sakir meminjam uang sebesar Rp. 2000 pada Tegar, Ia berjanji akan membayarnya besok. Uang yang harus disiapkan Tegar adalah ...</p> <p>a. </p> <p>b. </p> <p>c. </p> <p>d. </p>	b. 2000	b. 2000	✓	
13	<p>Sakir diajak ayah ke pasar. Sesampainya di pasar, Sakir meminta ayahnya untuk membeli rambutan. Harga rambutan adalah Rp. 10.000. Uang yang harus dibayarkan ayah untuk membeli rambutan adalah ...</p> <p>a. </p> <p>b. </p>	d. 10.000	d. 10.000	✓	

	<p>c. </p> <p>d. </p>				
14	<p>Tegar mempunyai uang Rp. 2000. Jika ia membelanjakan uangnya sebesar Rp. 1000, maka sisa uang Tegar adalah ...</p> <p>a. </p> <p>b. </p> <p>c. </p> <p>d. </p>	a. 1000	b. 1000	✓	

15	<p>Sakir mempunyai uang sebesar Rp. 6000, Dia berniat membeli dua buah buku tulis. Jika harga satu buah buku adalah Rp. 2000, sisa uang Sakir adalah ...</p> <p>a. </p> <p>b. </p> <p>c. </p> <p>d. </p>	b. 2000	c. 2000	✓	
----	---	---------	---------	---	--

16	<p>Hitunglah hasil dari pengurangan mata uang berikut!</p>  <p style="text-align: center;">-</p>  <p style="text-align: center;">=</p>	1000	1000	✓	
17	<p>Hasil pengurangan dari dua uang di bawah adalah ...</p>  <p style="text-align: center;">-</p>  <p style="text-align: center;">=</p>	5.000	5000	✓	
18	<p>Hasil pengurangan dari dua mata uang di bawah adalah ...</p>  <p style="text-align: center;">-</p>  <p style="text-align: center;">=</p>	10.000	10.000	✓	

19	<p>Hasil pengurangan dari mata uang di bawah adalah ...</p>  <p style="text-align: center;">-</p>    <p style="text-align: center;">=</p>	2000	2000	✓	
20	<p>Hasil dari pengurangan mata uang di bawah adalah ...</p>  <p style="text-align: center;">-</p>  <p style="text-align: center;">=</p>	50.000	50.000	✓	
Jumlah				20	0