



Lampiran 4






Rubrik Instrumen









Judul: Peningkatan Hasil Belajar Aritmatika Melalui Metode Simulasi Pada Anak Diskalkulia Kelas III SD Inpres Maccini Baru







No	Item tes	Kunci jawaban	Skor	
			0	1
1	<p>Kerjakanlah soal-soal di bawah ini dengan benar!</p> <p>Ibu memberi uang jajan kepada Tegar satu lembar uang kertas seperti gambar di bawah.</p>  <p>Berapakah uang yang diperoleh Tegar?</p>	1000		
2	<p>Tuliskan nilai mata uang dari gambar di bawah...</p> 	5000		







3	<p>Nilai dari mata uang di bawah ini adalah....</p> 	2000		
4	<p>Nilai dari mata uang di bawah adalah ...</p> 	10.000		
5	<p>Nilai mata uang di bawah adalah ...</p> 	20.000		
6	<p>Hitunglah hasil dari penjumlahan mata uang berikut!</p>  <p style="text-align: center;">+</p>  <p style="text-align: center;">=</p>	2000		




7	<p>Hasil penjumlahan dari dua uang di bawah adalah ...</p>  <p style="text-align: center;">+</p> <p style="text-align: center;">=</p>	10.000		
8	<p>Jumlah dari dua mata uang di bawah adalah</p>  <p style="text-align: center;">+</p> <p style="text-align: center;">=</p>	20.000		
9	<p>Jumlah dari mata uang di bawah adalah ...</p>  <p style="text-align: center;">+</p> <p style="text-align: center;">=</p>	5000		

10	<p>Hasil dari penjumlahan mata uang di bawah adalah ...</p> 	100.000		
11	<p>Tegar berniat membeli nasi di kantin sekolah, bila harga nasi adalah Rp. 5000, maka uang yang harus dibayarkan oleh Tegar adalah ...</p> <p>a. </p> <p>b. </p> <p>c. </p> <p>d. </p>	c. 5000		
12	<p>Sakir meminjam uang sebesar Rp. 2000 pada Tegar, Ia berjanji akan membayarnya besok. Uang yang harus disiapkan Tegar adalah ...</p>	b. 2000		

	<p>a. </p> <p>b. </p> <p>c. </p> <p>d. </p>		
13	<p>Sakir diajak ayah ke pasar. Sesampainya di pasar, Sakir meminta ayahnya untuk membeli rambutan. Harga rambutan adalah Rp. 10.000. Uang yang harus dibayarkan ayah untuk membeli rambutan adalah ...</p> <p>a. </p> <p>b. </p> <p>c. </p> <p>d. </p>	e. 10.000	

14	<p>Tegar mempunyai uang Rp. 2000. Jika ia membelanjakan uangnya sebesar Rp. 1000, maka sisa uang Tegar adalah ...</p> <p>a. </p> <p>b. </p> <p>c. </p> <p>d. </p>	a. 1000		
15	<p>Sakir mempunyai uang sebesar Rp. 6000, Dia berniat membeli dua buah buku tulis. Jika harga satu buah buku adalah Rp. 2000, sisa uang Sakir adalah ...</p> <p>a. </p> <p>b. </p>	a. 2000		

	<p>c.</p>  <p>d.</p> 			
16	<p>Hitunglah hasil dari pengurangan mata uang berikut!</p>  <p>-</p>  <p>=</p>	1000		
17	<p>Hasil pengurangan dari dua uang di bawah adalah ...</p>  <p>-</p>  <p>=</p>	5000		

18	<p>Hasil pengurangan dari dua mata uang di bawah adalah</p>  <p style="text-align: center;">-</p> <p style="text-align: center;">=</p>	10.000		
19	<p>Hasil pengurangan dari mata uang di bawah adalah</p> <p>...</p>  <p style="text-align: center;">-</p>	2000		
20	<p>Hasil dari pengurangan mata uang di bawah adalah</p> <p>...</p>  <p style="text-align: center;">-</p>	50.000		

Keterangan

Skor 1 jika anak mampu mengerjakan soal dengan benar

Skor 0 jika anak tidak mampu mengerjakan soal dengan benar